

ΑΠΟΛΥΤΗΡΙΕΣ ΕΞΕΤΑΣΕΙΣ Γ΄ ΤΑΞΗΣ
ΕΝΙΑΙΟΥ ΛΥΚΕΙΟΥ
ΤΡΙΤΗ 5 ΙΟΥΝΙΟΥ 2001
ΕΞΕΤΑΖΟΜΕΝΟ ΜΑΘΗΜΑ ΤΕΧΝΟΛΟΓΙΚΗΣ
ΚΑΤΕΥΘΥΝΣΗΣ (ΚΥΚΛΟΣ ΤΕΧΝΟΛΟΓΙΑΣ ΚΑΙ
ΠΑΡΑΓΩΓΗΣ): ΧΗΜΕΙΑ - ΒΙΟΧΗΜΕΙΑ
ΣΥΝΟΛΟ ΣΕΛΙΔΩΝ: ΕΠΤΑ (7)

ΘΕΜΑ 1^ο

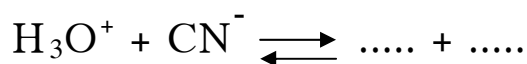
1.1. Να γράψετε στο τετράδιό σας το γράμμα που αντιστοιχεί στη σωστή απάντηση:

Η σταθερά K_w στους 25° C έχει τιμή 10^{-14} :

- α. μόνο στο καθαρό νερό
- β. σε οποιοδήποτε υδατικό διάλυμα
- γ. μόνο σε υδατικά διαλύματα βάσεων
- δ. μόνο σε υδατικά διαλύματα οξέων.

Μονάδες 4

1.2. Να συμπληρώσετε στο τετράδιό σας την παρακάτω χημική εξίσωση:



Μονάδες 4

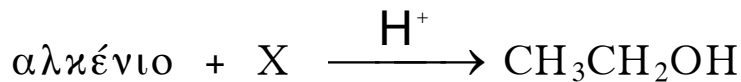
1.3. Να χαρακτηρίσετε τις προτάσεις που ακολουθούν γράφοντας στο τετράδιό σας την ένδειξη **Σωστό** ή **Λάθος** δίπλα στο γράμμα που αντιστοιχεί σε κάθε πρόταση.

- α. Τα καρβοξυλικά οξέα (RCOOH) αντιδρούν με ανθρακικά άλατα.
- β. Η ένωση με τύπο $\text{RC}\equiv\text{N}$ ανήκει στις αμίνες.

- γ. Τα αντιδραστήρια Grignard αντιδρούν με $\text{HCH}=\text{O}$ και μετά από υδρόλυση του ενδιάμεσου προϊόντος, δίνουν δευτεροταγή αλκοόλη.
- δ. Οι αμίνες αντιδρούν με το HCl και δίνουν τα αντίστοιχα άλατα .
- ε. Τα αλκυλαλογονίδια αντιδρούν με αλκοξείδια του νατρίου (RONa) και δίνουν αιθέρες.

Μονάδες 5

- 1.4. Να γράψετε στο τετράδιό σας την παρακάτω χημική εξίσωση, προσδιορίζοντας το συντακτικό τύπο της οργανικής ένωσης που αναφέρεται καθώς και την ανόργανη ουσία που αντιστοιχεί στο γράμμα X.



Μονάδες 4

- 1.5. Η προσθήκη HCN στις καρβονυλικές ενώσεις του τύπου $\text{C}_3\text{H}_6\text{O}$ δίνει δύο οργανικά προϊόντα.

Να γραφούν οι σχετικές χημικές εξισώσεις των αντιδράσεων, χρησιμοποιώντας τους συντακτικούς τύπους των οργανικών ενώσεων.

Μονάδες 8

ΘΕΜΑ 2°

100mL διαλύματος Δ_1 που περιέχει NH_3 ογκομετρούνται με διάλυμα HNO_3 0.2M παρουσία κατάλληλου δείκτη.

Για την πλήρη εξουδετέρωση της NH_3 απαιτούνται 50mL διαλύματος HNO_3 , οπότε προκύπτει τελικό διάλυμα Δ_2 .

- α. Να γράψετε την εξίσωση της αντίδρασης που πραγματοποιείται, και να εξετάσετε, αν το διάλυμα

Δ_2 , είναι όξινο, βασικό ή ουδέτερο, γράφοντας τη χημική εξίσωση της ισορροπίας που αποκαθίσταται σε αυτό.

Μονάδες 6

β. Να υπολογίσετε τη συγκέντρωση σε $\frac{\text{mol}}{\text{L}}$ του αρχικού διαλύματος Δ_1 σε NH_3 , καθώς και το pH αυτού.

Μονάδες 6

γ.i. Να υπολογίσετε την τιμή του pH του διαλύματος που προκύπτει μετά την προσθήκη 25 mL διαλύματος HNO_3 0.2M, στα 100mL του διαλύματος Δ_1 .

Μονάδες 8

ii. Να βρεθεί το χρώμα που θα έχει τότε το διάλυμα, αν δίνονται ότι:

- ο δείκτης είναι ένα ασθενές μονοπρωτικό οξύ $\text{H}\Delta$.
- το χρώμα των μορίων του δείκτη $\text{H}\Delta$ είναι κόκκινο

και επικρατεί όταν $\frac{[\text{H}\Delta]}{[\Delta^-]} \geq 10$

- το χρώμα των ιόντων Δ^- του δείκτη είναι κίτρινο και

επικρατεί όταν $\frac{[\Delta^-]}{[\text{H}\Delta]} \geq 10$

Μονάδες 5

Δίνονται ότι όλα τα διαλύματα είναι υδατικά, στους 25°C και $K_{\text{b}}(\text{NH}_3) = 10^{-5}$, $K_{\text{a}}(\text{H}\Delta) = 10^{-5}$, $K_{\text{w}} = 10^{-14}$.

ΘΕΜΑ 3^ο

3.1. Να μεταφέρετε στο τετράδιό σας την παρακάτω πρόταση συμπληρωμένη με τις σωστές λέξεις:

Η ινσουλίνη και η γλυκαγόνη είναι πεπτιδικής φύσεως, που εκκρίνονται από το και ρυθμίζουν τη συγκέντρωση του σακχάρου στο αίμα.

Μονάδες 4

3.2. Να γράψετε στο τετράδιό σας τα γράμματα της **Στήλης I** και δίπλα σε κάθε γράμμα τον αριθμό της **Στήλης II** που αντιστοιχεί στη σωστή έννοια.

Στήλη I	Στήλη II
A. Ουρακίλη	1. Πεντόζη του DNA
B. D-ριβόζη	2. Αζωτούχος βάση του RNA
Γ. Δεοξυριβονουκλεοτίδιο	3. Μονομερές του DNA
Δ. Ριβονουκλεοτίδιο	4. Πεντόζη του RNA
	5. Μονομερές του RNA

Μονάδες 4

3.3. Να χαρακτηρίσετε τις προτάσεις που ακολουθούν γράφοντας στο τετράδιό σας την ένδειξη **Σωστό** ή **Λάθος** δίπλα στο γράμμα που αντιστοιχεί σε κάθε πρόταση.

- α.** Όταν το pH υδατικού διαλύματος ενός αμινοξέος είναι $pH < pI$, τότε το αμινοξύ εμφανίζεται θετικά φορτισμένο.
- β.** Το μόριο της γλυκόζης αποτελεί τη δομική μονάδα του αμύλου, της κυτταρίνης και του γλυκογόνου.

- γ. Η αλληλουχία των αντιδράσεων της γλυκόλυσης είναι διαφορετική για τους αερόβιους και τους αναερόβιους οργανισμούς.

Μονάδες 6

3.4. Να γράψετε στο τετράδιό σας το γράμμα που αντιστοιχεί στη σωστή απάντηση.

Το υπόστρωμα προσδένεται στο ενεργό κέντρο του ενζύμου

- α. με ηλεκτροστατικές αλληλεπιδράσεις, δεσμούς υδρογόνου και δυνάμεις Van der Waals
- β. με ομοιοπολικούς δεσμούς
- γ. μόνο με δεσμούς υδρογόνου
- δ. με δισουλφιδικούς δεσμούς.

Μονάδες 3

3.5. Η ταχύτητα μιας ενζυμικής αντίδρασης ελαττώνεται, όταν το pH είναι μεγαλύτερο ή μικρότερο από την άριστη τιμή. Να εξηγήσετε γιατί συμβαίνει αυτό.

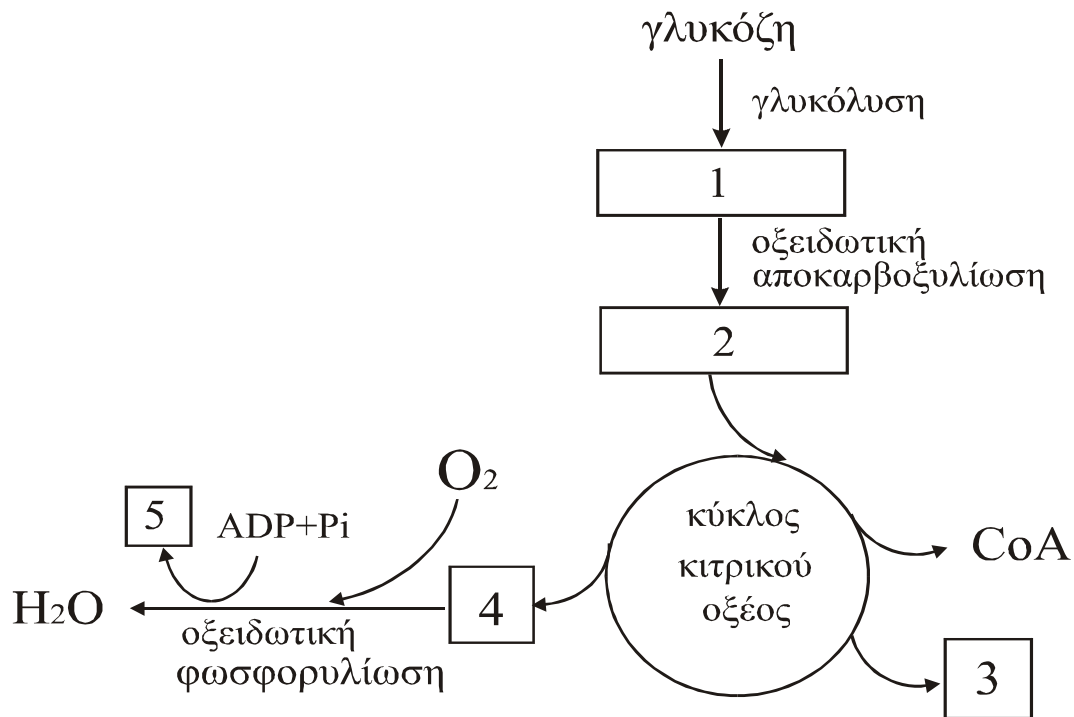
Μονάδες 8

ΘΕΜΑ 4^ο

4.1. Κατά την υδρόλυση ενός τετραπεπτίδιου με διάλυμα HCl, προκύπτουν δύο μόρια γλυκίνης (Gly) και δύο μόρια αλανίνης (Ala). Χρησιμοποιώντας τα σύμβολα Gly και Ala, να γράψετε την αλληλουχία των αμινοξέων κάθε πιθανού τετραπεπτίδιου.

Μονάδες 6

- 4.2. Η μεταβολική πορεία που ακολουθεί το κύτταρο για την πλήρη οξείδωση της γλυκόζης, απεικονίζεται στο παρακάτω σχήμα:



Να γράψετε στο τετράδιό σας κάθε αριθμό του σχήματος και δίπλα το γράμμα που αντιστοιχεί στη σωστή επιλογή.

- A. ακέτυλο CoA
- B. CO₂
- Γ. ATP
- Δ. Πυροσταφυλικό οξύ
- Ε. NADH και FADH₂

Μονάδες 10

4.3. Το ένζυμο κλειδί για τη ρύθμιση της γλυκόλυσης είναι η φωσφοφρουκτοκινάση

α. Να αναφέρετε την αντίδραση που καταλύει

Μονάδες 3

β. Με ποιο τρόπο ρυθμίζεται η γλυκολυτική πορεία από το ένζυμο αυτό σύμφωνα με την ενεργειακή κατάσταση του κυττάρου.

Μονάδες 6

ΟΔΗΓΙΕΣ (για τους υποψηφίους)

1. Στο τετράδιο να γράψετε μόνο τα προκαταρκτικά (ημερομηνία, κατεύθυνση, εξεταζόμενο μάθημα). Τα θέματα δε θα τα αντιγράψετε στο τετράδιο.
2. Να γράψετε το ονοματεπώνυμό σας στο πάνω μέρος των φωτοαντιγράφων αμέσως μόλις σας παραδοθούν. Καμιά άλλη σημείωση δεν επιτρέπεται να γράψετε. Κατά την αποχώρησή σας να παραδώσετε μαζί με το τετράδιο και τα φωτοαντίγραφα.
3. Να απαντήσετε στο τετράδιό σας σε όλα τα ζητήματα.
4. Κάθε λύση επιστημονικά τεκμηριωμένη είναι αποδεκτή.
5. Διάρκεια εξέτασης: Τρεις (3) ώρες μετά τη διανομή των φωτοαντιγράφων.
6. Χρόνος δυνατής αποχώρησης: Μιάμιση (1 1/2) ώρα μετά τη διανομή των φωτοαντιγράφων.

ΚΑΛΗ ΕΠΙΤΥΧΙΑ!

ΤΕΛΟΣ ΜΗΝΥΜΑΤΟΣ