

**ΕΠΑΝΑΛΗΠΤΙΚΕΣ ΑΠΟΛΥΤΗΡΙΕΣ ΕΞΕΤΑΣΕΙΣ
Γ' ΤΑΞΗΣ ΗΜΕΡΗΣΙΟΥ ΓΕΝΙΚΟΥ ΛΥΚΕΙΟΥ
ΤΕΤΑΡΤΗ 8 ΙΟΥΛΙΟΥ 2009
ΕΞΕΤΑΖΟΜΕΝΟ ΜΑΘΗΜΑ: ΧΗΜΕΙΑ
ΘΕΤΙΚΗΣ ΚΑΤΕΥΘΥΝΣΗΣ
ΣΥΝΟΛΟ ΣΕΛΙΔΩΝ: ΕΞΙ (6)**

ΘΕΜΑ 1ο

Για τις ερωτήσεις 1.1 - 1.4 να γράψετε στο τετράδιό σας τον αριθμό της ερώτησης και δίπλα το γράμμα που αντιστοιχεί στη σωστή απάντηση.

- 1.1 Ένα ηλεκτρόνιο που ανήκει σε τροχιακό της 3p υποστιβάδας είναι δυνατόν να έχει την εξής τετράδα κβαντικών αριθμών:
- α. (3, 0, 0, +1/2)
 - β. (3, 2, -1, -1/2)
 - γ. (3, 3, -1, +1/2)
 - δ. (3, 1, 1, +1/2)

Μονάδες 5

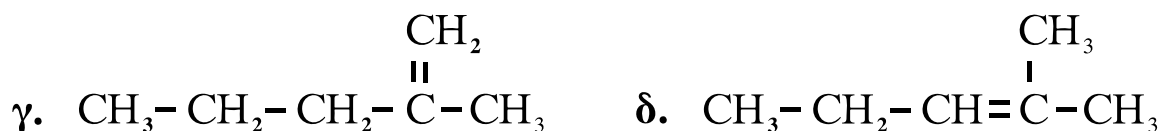
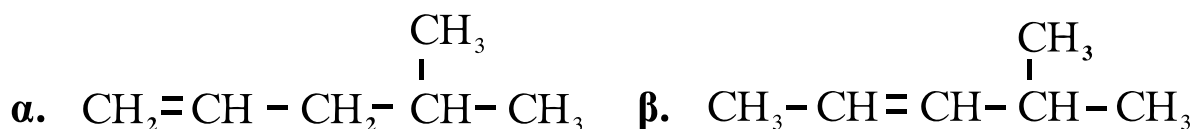
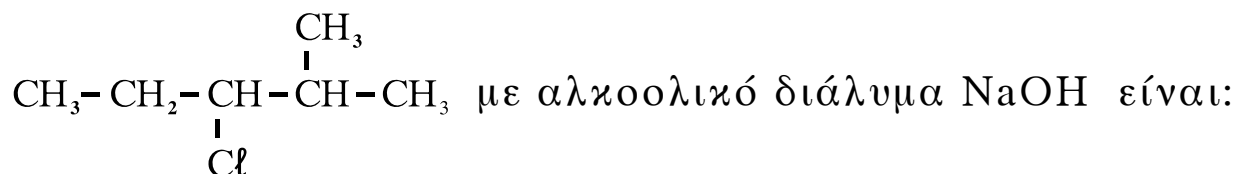
- 1.2 Από τα παρακάτω υδατικά διαλύματα $\text{pH} > 7$ στους 25°C έχει:
- α. το διάλυμα CH_3COONa
 - β. το διάλυμα NaCl
 - γ. το διάλυμα CH_3COOH
 - δ. το διάλυμα $\text{CH}_3\text{NH}_3^+\text{Cl}^-$

Μονάδες 5

- 1.3 Δεσμός σ που προκύπτει με επικάλυψη sp-sp υβριδικών τροχιακών υπάρχει στην ένωση:
- α. $\text{CH}_2=\text{CH}_2$
 - β. $\text{CH}\equiv\text{CH}$
 - γ. $\text{CH}_2=\text{CHCl}$
 - δ. CH_3-CH_3

Μονάδες 5

1.4 Το κύριο προϊόν της θέρμανσης της ένωσης



Μονάδες 5

1.5 Να χαρακτηρίσετε τις προτάσεις που ακολουθούν, γράφοντας στο τετράδιό σας δίπλα στο γράμμα που αντιστοιχεί σε κάθε πρόταση τη λέξη **Σωστό**, αν η πρόταση είναι σωστή, ή **Λάθος**, αν η πρόταση είναι λανθασμένη.

- α. Κατά μήκος μιας περιόδου η ατομική ακτίνα αυξάνεται από τα αριστερά προς τα δεξιά.
- β. Το pH του καθαρού νερού εξαρτάται από τη θερμοκρασία.
- γ. Υδατικό διάλυμα $\text{Ca}(\text{OH})_2$ 10^{-3}M έχει ίδιο pH με υδατικό διάλυμα NaOH ίδιας συγκέντρωσης και ίδιας θερμοκρασίας.
- δ. Όλα τα αλκίνια αντιδρούν με μεταλλικό νάτριο.
- ε. Η δεύτερη ενέργεια ιοντισμού είναι μεγαλύτερη από την πρώτη.

Μονάδες 5

ΘΕΜΑ 2ο

2.1 Το κατιόν K^+ και το ανιόν Cl^- έχουν το καθένα ίσο αριθμό ηλεκτρονίων με το ευγενές αέριο της τρίτης περιόδου (Ar).

ΑΡΧΗ 3ΗΣ ΣΕΛΙΔΑΣ

α. Να προσδιορίσετε τον ατομικό αριθμό του στοιχείου Ar.

Μονάδες 2

β. Να προσδιορίσετε τους ατομικούς αριθμούς των στοιχείων K και Cl.

Μονάδες 2

γ. Να γράψετε τις ηλεκτρονιακές δομές (στιβάδες, υποστιβάδες) των στοιχείων K, Cl και O. Δίνεται για το O: ατομικός αριθμός $Z = 8$.

Μονάδες 3

δ. Να γράψετε τον ηλεκτρονιακό τύπο κατά Lewis της ένωσης $KClO_3$.

Μονάδες 3

2.2 Διαθέτουμε υδατικό διάλυμα CH_3COOH Δ_1 , όγκου V_1 και βαθμού ιοντισμού α_1 . Το διάλυμα Δ_1 αραιώνεται με νερό ίδιας θερμοκρασίας και προκύπτει διάλυμα Δ_2 , όγκου V_2 και βαθμού ιοντισμού α_2 .

α. Για τους βαθμούς ιοντισμού α_1 και α_2 ισχύει:

1. $\alpha_1 < \alpha_2$

2. $\alpha_1 > \alpha_2$

3. $\alpha_1 = \alpha_2$

Να επιλέξετε τη σωστή από τις παραπάνω σχέσεις.

Μονάδα 1

Να αιτιολογήσετε την απάντησή σας.

Μονάδες 3

β. Στο διάλυμα Δ_1 προστίθεται στερεό CH_3COONa , χωρίς να μεταβληθούν ο όγκος και η θερμοκρασία του διαλύματος, και προκύπτει διάλυμα Δ_3 με βαθμό ιοντισμού α_3 .

Ο βαθμός ιοντισμού α_3 είναι μικρότερος, μεγαλύτερος ή ίσος με τον βαθμό ιοντισμού α_1 του διαλύματος Δ_1 ;

Μονάδα 1

Να αιτιολογήσετε την απάντησή σας.

Μονάδες 3

2.3 Διαθέτουμε τις οργανικές ενώσεις CH_3CHO , CH_3COOH και $\text{CH}_3-\text{CH}=\text{CH}_2$ καθώς και τα αντιδραστήρια: διάλυμα βρωμίου σε τετραχλωράνθρακα ($\text{Br}_2 / \text{CCl}_4$), αμμωνιακό διάλυμα νιτρικού αργύρου ($\text{AgNO}_3 / \text{NH}_3$) και μεταλλικό νάτριο (Na).

Να γράψετε στο τετράδιό σας:

α. το αντιδραστήριο με το οποίο αντιδρά η καθεμιά από τις παραπάνω οργανικές ενώσεις.

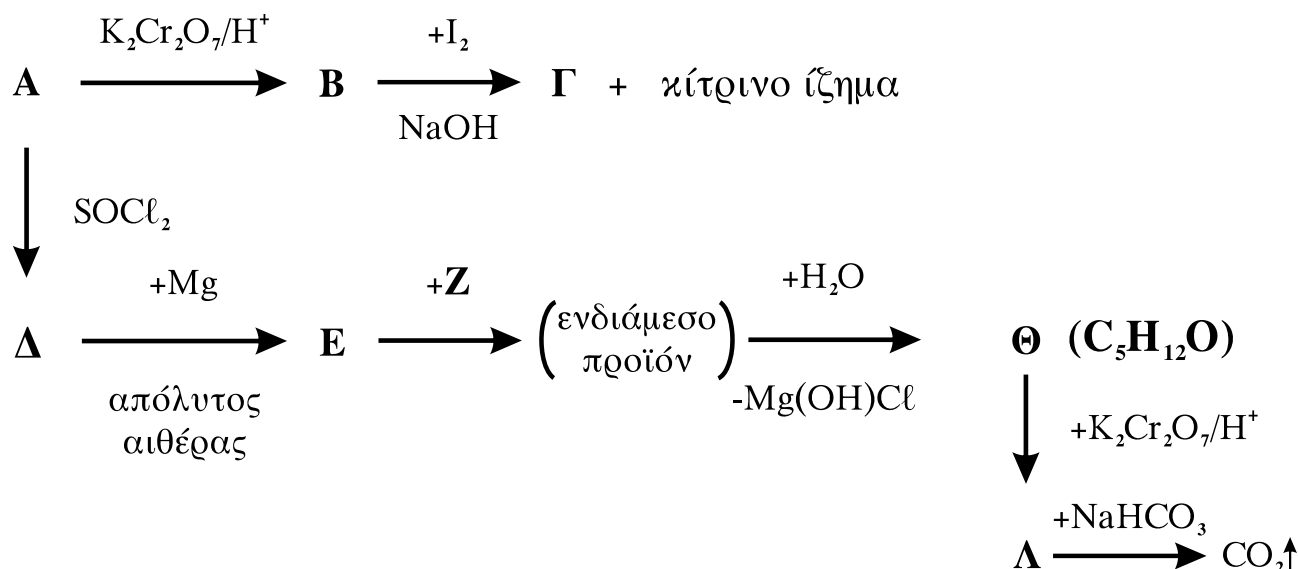
Μονάδες 3

β. τη χημική εξίσωση (αντιδρώντα, προϊόντα, συντελεστές) της αντίδρασης του αμμωνιακού διαλύματος νιτρικού αργύρου με εκείνη την οργανική ένωση από τις παραπάνω, με την οποία αντιδρά.

Μονάδες 4

ΘΕΜΑ 3ο

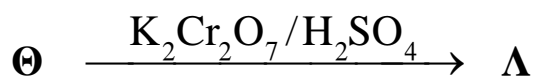
3.1 Δίνεται το παρακάτω διάγραμμα χημικών μετατροπών:



α. Να γράψετε τους συντακτικούς τύπους των οργανικών ενώσεων **A**, **B**, **Γ**, **Δ**, **E**, **Z**, **Θ** και **Λ**.

Μονάδες 16

β. Να γράψετε τη χημική εξίσωση (αντιδρώντα, προϊόντα, συντελεστές) της παρακάτω χημικής μετατροπής:



Μονάδες 3

3.2 0,1 mol της ένωσης $\text{CH}_3-\underset{\substack{| \\ \text{OH}}}{\text{CH}}-\text{CH}_3$ αντιδρούν με SOCl_2 .

Να υπολογίσετε τον συνολικό όγκο των ανοργάνων αερίων σε κανονικές συνθήκες (stp), που παράγονται από την παραπάνω αντίδραση.

Η αντίδραση θεωρείται μονόδρομη και ποσοτική.

Μονάδες 6

ΘΕΜΑ 4ο

Διαθέτουμε τα παρακάτω υδατικά διαλύματα:

Διάλυμα Δ_1 άλατος NH_4Cl , συγκέντρωσης $c = 10^{-3}\text{M}$ και

Διάλυμα Δ_2 NaOH με $\text{pH} = 10$.

Σε 110 mL διαλύματος Δ_1 προσθέτουμε 100 mL διαλύματος Δ_2 και προκύπτει διάλυμα Δ_3 με $\text{pH} = 8$.

4.1 Να υπολογίσετε τη συγκέντρωση του διαλύματος Δ_2 .

Μονάδες 3

4.2 Να υπολογίσετε τη σταθερά ιοντισμού K_b της NH_3 .

Μονάδες 16

4.3 Να υπολογίσετε το pH του διαλύματος Δ_1 .

Μονάδες 6

Δίνεται ότι όλα τα υδατικά διαλύματα βρίσκονται σε θερμοκρασία 25°C , όπου $K_w = 10^{-14}$.

Τα αριθμητικά δεδομένα του προβλήματος επιτρέπουν τις γνωστές προσεγγίσεις.

ΟΔΗΓΙΕΣ ΓΙΑ ΤΟΥΣ ΕΞΕΤΑΖΟΜΕΝΟΥΣ

1. Στο τετράδιο να γράψετε **μόνον** τα προκαταρκτικά (ημερομηνία, κατεύθυνση, εξεταζόμενο μάθημα). **Να μην αντιγράψετε** τα θέματα στο τετράδιο.
2. Να γράψετε το ονοματεπώνυμό σας στο πάνω μέρος των φωτοαντιγράφων, αμέσως μόλις σας παραδοθούν. **Καμιά άλλη σημείωση δεν επιτρέπεται να γράψετε.** Κατά την αποχώρησή σας να παραδώσετε μαζί με το τετράδιο και τα φωτοαντίγραφα.
3. Να απαντήσετε **στο τετράδιό σας σε όλα** τα θέματα.
4. Να γράψετε τις απαντήσεις σας **μόνον με μπλε ή μαύρο στυλό διαρκείας και μόνον ανεξίτηλης μελάνης.**
5. Κάθε απάντηση επιστημονικά τεκμηριωμένη είναι αποδεκτή.
6. Διάρκεια εξέτασης: τρεις (3) ώρες μετά τη διανομή των φωτοαντιγράφων.
7. Χρόνος δυνατής αποχώρησης: 10.00 π.μ.

ΚΑΛΗ ΕΠΙΤΥΧΙΑ

ΤΕΛΟΣ ΜΗΝΥΜΑΤΟΣ